

Les compléments à la dizaine supérieure

 $15 + \underline{\hspace{2cm}} = 20$

©laclassedeclara

7

5

9

Les compléments à la dizaine supérieure

 $13 + \underline{\hspace{2cm}} = 20$

©laclassedeclara

4

7

6

Les compléments à la dizaine supérieure

 $24 + \underline{\hspace{2cm}} = 30$

©laclassedeclara

7

3

6

Les compléments à la dizaine supérieure

 $26 + \underline{\hspace{2cm}} = 30$

©laclassedeclara

4

5

6

Les compléments à la dizaine supérieure

 $31 + \underline{\hspace{2cm}} = 40$

©laclassedeclara

7

9

6

Les compléments à la dizaine supérieure

 $37 + \underline{\hspace{2cm}} = 40$

©laclassedeclara

3

8

5

Les compléments à la dizaine supérieure

 $42 + \underline{\hspace{2cm}} = 50$

©laclassedeclara

8

5

9

Les compléments à la dizaine supérieure

 $48 + \underline{\hspace{2cm}} = 50$


©laclassedeclara

4

2

3

Les compléments à la dizaine supérieure

 $53 + \underline{\hspace{2cm}} = 60$


©laclassedeclara

7

8

6

Les compléments à la dizaine supérieure

 $57 + \underline{\hspace{2cm}} = 60$

©laclassedeclara

4

3

5

Les compléments à la dizaine supérieure

 $61 + \underline{\hspace{2cm}} = 70$

©laclassedeclara

7

9

6

Les compléments à la dizaine supérieure

 $69 + \underline{\hspace{2cm}} = 70$

©laclassedeclara

3

2

1

Les compléments à la dizaine supérieure

 $76 + \underline{\hspace{2cm}} = 80$

©laclassedeclara

3

5

4

Les compléments à la dizaine supérieure

 $72 + \underline{\hspace{2cm}} = 80$

©laclassedeclara

6

7

8

Les compléments à la dizaine supérieure

 $83 + \underline{\hspace{2cm}} = 90$


©laclassedeclara

7

3

6

Les compléments à la dizaine supérieure

 $88 + \underline{\hspace{2cm}} = 90$

©laclassedeclara

2

3

4