



Problème multiplicatif



Le fleuriste a vendu 8 bouquets de 6 tulipes.

Combien le fleuriste a-t-il vendu de tulipes ?



Problème multiplicatif



Dans la boîte, il y a 7 lignes de 9 cookies.

Combien de cookies y a-t-il dans la boîte ?



Problème multiplicatif



Léa a fabriqué 6 colliers avec 7 perles
chacun.

Combien Léa a-t-elle utilisé de perles ?



Problème multiplicatif



Tom a invité autant de filles que de garçons à
son anniversaire. Il a invité 9 filles.

Combien y a-t-il d'enfants ?



3

@la.classe.de.clara



1

@la.classe.de.clara



4

@la.classe.de.clara



2

@la.classe.de.clara





Problème multiplicatif



Emmy a acheté 9 paquets de bonbons. Il y a 8 bonbons dans chaque paquet.

Combien de bonbons Emmy a-t-elle en tout ?



Problème multiplicatif



Un kangourou fait des sauts de 6 m.

Quelle distance parcourt-il en faisant 6 sauts ?



Problème multiplicatif



Tom achète 7 tartelettes aux fraises. Chaque tartelette coûte 3€.

Combien a-t-il dépensé en tout ?



Problème multiplicatif



Le magasin de jouets reçoit 9 cartons de 5 jeux.

Combien y-a-t-il de jeux en tout ?



7

@la.classe.de.clara



5

@la.classe.de.clara



8

@la.classe.de.clara



6

@la.classe.de.clara





Problème multiplicatif



La maîtresse a commandé 8 paquets de 8 cahiers.

Combien de cahiers a-t-elle commandé en tout ?



Problème multiplicatif



Maman a acheté 8 paquets de terreau pour son jardin. Chaque paquet coûte 4€.

Combien a-t-elle dépensé en tout ?



Problème multiplicatif



Dans son portemonnaie, Lucas a 6 billets de 5€.

Combien a-t-il d'argent au total ?



Problème multiplicatif



Lisa a 36€. Elle veut acheter des paquets de gâteaux à 4€.

Combien peut-elle acheter de paquets de gâteaux ?



11

@la.classe.de.clara



9

@la.classe.de.clara



12

@la.classe.de.clara




10

@la.classe.de.clara





Problème multiplicatif



Le fermier a ramassé 7 boîtes de 4 oeufs.

Combien d'oeufs a-t-il ramassé en tout ?



Problème multiplicatif



À la crèche, il y a deux fois plus d'enfants l'après-midi que le matin. Le matin, il y a 7 enfants.

Combien y a-t-il d'enfants l'après-midi ?



Problème multiplicatif




Le boulanger a vendu 9 galettes des rois.

Chaque galette coûte 6€.

Combien a-t-il gagné d'argent au total ?



Problème multiplicatif



Dans la salle, il y a 8 rangées de 7 chaises.

Combien de personnes peuvent s'asseoir ?



15

@la.classe.de.clara



13

@la.classe.de.clara



16

@la.classe.de.clara




14

@la.classe.de.clara





Problème multiplicatif



Lisa, Tom, Marc et Pauline achètent chacun une place pour aller au cinéma. Une place de cinéma coûte 9€.

Combien vont-ils dépenser en tout ?



Problème multiplicatif



Dans la classe de CP, il y a 6 rangées de 9 élèves.

Combien y a-t-il d'élèves en tout ?



Problème multiplicatif



Lola a récolté 8 paquets de 8 images.

Combien a-t-elle d'images en tout ?



Problème multiplicatif



Marie a un album d'autocollants. Elle peut coller 6 autocollants par page. Elle a déjà rempli 9 pages.

Combien d'autocollants a-t-elle collé ?



19

@la.classe.de.clara



17

@la.classe.de.clara



20

@la.classe.de.clara



18

@la.classe.de.clara





Problème multiplicatif



La maîtresse a 40 bonbons. Elle fait des paquets de 4 bonbons.

Combien de paquets va-t-elle pouvoir faire ?



Problème multiplicatif



Papa vide 6 sachets de friandises dans la gamelle du chien. Chaque sachet contient 6 friandises.

Combien y a-t-il de friandises dans la gamelle ?



Problème multiplicatif



42 oiseaux sont répartis dans des cages en groupe de 6.

Combien faut-il de cages ?



Problème multiplicatif



La maîtresse a 81 jetons. Elle les distribue à un groupe d'élèves. Chaque élève reçoit 9 jetons.

Combien y a-t-il d'élèves ?



23

@la.classe.de.clara



21

@la.classe.de.clara



24

@la.classe.de.clara



22

@la.classe.de.clara



